

WEST BENGAL SHINE TEACHER'S OF EDUCATION TALENT SEARCH EXAM, 2023
CLASS - III

*Every Correct answer will add 2 Marks

Time : 1 hr. 30 min

*Every Wrong answer will deduct 1 Mark

Full Marks : 160

- | | |
|---|---|
| <p>1. গাছ মাটি থেকে জল শোষণ করার জন্য কোন অংশকে ব্যবহার করে
ক. কাণ্ড খ. মূল
গ. পাতা ঘ. সবকটিই</p> <p>2. নিম্নলিখিত উদ্ভিদগুলির মধ্যে কোন্টি 'ভেষজ উদ্ভিদ' ?
ক. বট খ. আম
গ. নিম ঘ. কলা</p> <p>3. মানব হৃৎপিণ্ডের প্রধান কাজ কোন্টি ?
ক. শরীরের বিভিন্ন অঙ্গে রক্ত পাম্প করে পাঠানো
খ. শরীরকে নিয়ন্ত্রণ করা
গ. রক্ত পরিশুদ্ধকরণ
ঘ. সবকটিই</p> <p>4. কোন রঞ্জক পদার্থের উপস্থিতির জন্য পাতার রঙ সবুজ হয় ?
ক. হাইড্রোফাইট খ. ক্লোরোফিল
গ. উভয় (ক) এবং (খ) ঘ. একটিও নয়</p> <p>5. ডিম, মাংস এবং পনির হল —
ক. উদ্ভিদ থেকে প্রাপ্ত খ. প্রাণী থেকে প্রাপ্ত
গ. উভয় (ক) এবং (খ) ঘ. একটিও নয়</p> <p>6. 'বিশুদ্ধ নিরামিষ' খাদ্য হল —
ক. শুধুমাত্র উদ্ভিদ দেহ থেকে প্রাপ্ত
খ. শুধুমাত্র প্রাণী দেহ থেকে প্রাপ্ত
গ. উদ্ভিদ এবং প্রাণী উভয়ের দেহ থেকে প্রাপ্ত
ঘ. একটিও না</p> <p>7. মাছ জল থেকে অক্সিজেন সংগ্রহ করার জন্য কোন অঙ্গ ব্যবহার করে ?
ক. ফুসফুস খ. ত্বক
গ. উভয় (ক) এবং (খ) ঘ. ফুলকা</p> <p>8. নিম্নলিখিত তরলগুলির মধ্যে কোন্টি আমাদের পাকস্থলীতে খাদ্য পরিপাকে সাহায্য করে ?
ক. রক্ত খ. জল
গ. অ্যাসিড ঘ. সবকটিই</p> <p>9. আমাদের পচনতন্ত্রের সবচেয়ে দীর্ঘতম অংশ কোন্টি ?
ক. অন্ত্র খ. গ্রাসনালী
গ. পাকস্থলী ঘ. লালগ্রন্থি</p> | <p>10. মানব শরীরে কটি ফুসফুস থাকে ?
ক. 2 টি খ. 4 টি
গ. 1 টি ঘ. 3 টি</p> <p>11. নিম্নলিখিতগুলির মধ্যে কোন্টি মনুষ্য সৃষ্টি ?
ক. প্লাস্টিক খ. জল
গ. মাটি ঘ. বালি</p> <p>12. নিম্নলিখিত গুলির মধ্যে কোন্টি নিজের খাজ্য নিজে তৈরি করতে পারে ?
ক. সবুজ গাছপালা খ. কুকুর
গ. বিড়াল ঘ. মাছ</p> <p>13. পৃথিবীতে সবথেকে বড়ো এবং গভীরতম সমুদ্রের নাম কী ?
ক. প্রশান্ত মহাসাগর খ. ভারত মহাসাগর
গ. অ্যাটলান্টিক মহাসাগর ঘ. আরব সাগর</p> <p>14. ICC বিশ্ব কাপ-এ ভারত কতবার জয় লাভ করেছে ?
ক. 1 খ. 2
গ. 3 ঘ. 4</p> <p>15. বিশ্বে সবথেকে ক্ষুদ্রতম পাখিটির কোন্টি ?
ক. Goldcrest খ. Tit
গ. Finches ঘ. Bee Humming Bird</p> <p>16. পৃথিবীতে সবথেকে বড়ো মরুভূমির নাম কী ?
ক. সাহারা মরুভূমি খ. কালাহারি মরুভূমি
গ. আরব মরুভূমি ঘ. থর মরুভূমি</p> <p>17. WWW -এর পুরো নাম কী ?
ক. Worl web wide খ. World wide web
গ. Web world Wide ঘ. Wide world web</p> <p>18. ভারতবর্ষের স্বাধীনতা দিবস কবে পালিত হয় ?
ক. 14 আগস্ট, 1947 খ. 15 আগস্ট, 1974
গ. 15 আগস্ট, 1947 ঘ. 14 সেপ্টেম্বর, 1974</p> <p>19. অশোক চক্রে মোট কত গুলি স্তম্ভ আছে ?
ক. 22 খ. 24
গ. 30 ঘ. 48</p> <p>20. কোন দেশকে 'উদীত সূর্যের দেশ' বলা হয় ?
ক. নরওয়ে খ. আসাম
গ. জাপান ঘ. মায়ানমান</p> |
|---|---|

WEST BENGAL SHINE TEACHER'S OF EDUCATION TALENT SEARCH EXAM, 2023
CLASS - III

<p>1. What absorb water from the soil? a. Stem b. Root c. All of these d. Leaves</p> <p>2. Which of the following is a medicinal plant? a. Banyan b. Mango c. Neem d. Banana</p> <p>3. The main function of heart is to a. Pump the blood to the parts of body b. Control the body c. Purify the blood d. All of the above</p> <p>4. Leaves are green due to the presence of green pigment called a. Hydrophytes b. Chlorophyll c. Both (a) and (b) d. None of these</p> <p>5. The source of Egg, Meat and Paneer are a. Plant product b. Animal product c. Both (a) and (b) d. None of these</p> <p>6. Pure vegetarian food includes a. Food from plant only b. Food from animal only c. Food from bothe animal and plant d. None of these</p> <p>7. Fish absorbs oxygen from water through their a. Lungs b. Skin c. Both (a) and (b) d. Gills</p> <p>8. Which liquid breaks down food in our stomach? a. Blood b. water c. Acid d. All of these</p> <p>9. Which is the longest part of the digestive system? a. Intestine b. Oesophagus c. Stomach d. salivary gland</p> <p>10. How many lunghs are present in our body? a. 2 b. 4 c. 1 d. 3</p>	<p>11. Which of the following is a man made thing? a. Plastic b. Water c. Soil d. Sand</p> <p>12. Which one of the following can prepare their own food? a. Green plants b. Dog c. Cat d. Fish</p> <p>13. Which is the biggest and deepest ocean on the earh? a. Pacific Ocean b. Indian Ocean c. Atlantic Ocean d. Arab Sea</p> <p>14. How many times did India win ICC world cup? a. 1 b. 2 c. 3 d. 4</p> <p>15. Which is the smallest bird in the world? a. Goldcrest b. Tit c. Finches d. Bee Humming Bird</p> <p>16. Which is the Largest desert in the world a. Sahara Desert b. Kalahari Desert c. Arabian Desert d. Thar Desert</p> <p>17. Full form of www? a. Worl web wide b. World wide web c. Web world Wide d. Wide world web</p> <p>18. India celebrate its Independence Day on? a. 14th August, 1947 b. 15th August 1974 c. 15th August, 1947 d. 14th September, 1974</p> <p>19. How many spokes has in Ashoka Chakra ? a. 22 b. 24 c. 30 d. 48</p> <p>20. Which country is called the "Land of of rising sun"? a. Norway b. Assam c. Japan d. Myanmar</p>
--	--

**WEST BENGAL SHINE TEACHER'S OF EDUCATION TALENT SEARCH EXAM, 2023
CLASS - III**

Fill in the blanks :

21. He writes _____ ink.
a. with
b. of
c. by
d. in
22. Let you and _____ go there.
a. he
b. me
c. I
d. they

Choose the article:

23. Tagore is a poet and _____ novelist.
a. a
b. the
c. an
d. No article

Choose the meanings of the Idioms.

24. Alpha and omega
a. To initiate
b. To plan
c. The beginning and the end
d. To avoid

25. A lady's purse is called....
a. Nubile
b. Reticule
c. sack
d. Wallet

Choose the correct conjunction:

26. Do I say
a. which
b. that
c. as
d. like

Choose the correct words :

27. The student's handwriting was _____.
a. eligible
b. illegible
c. indelible
d. credible
28. This novel _____ a thousand pages.
a. comprises
b. is comprised
c. is teemed
d. consists of

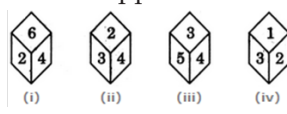
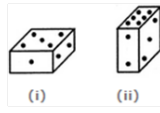
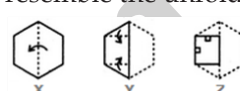
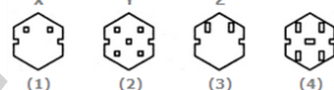
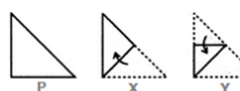
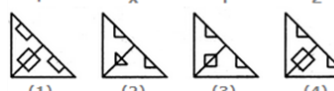
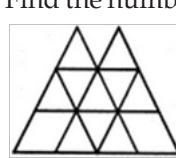
Choose the synonyms for the given words

29. Sombre.
a. Gloomy
b. Quiet
c. happy
d. angry
30. Sedentary
a. Rough
b. Stationary
c. Affectionate
d. Hazardous

Choose the antonyms for the given words.

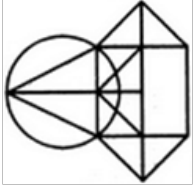
31. Covert
a. overt
b. Overlook
c. Implement
d. Implement
32. Rough
a. Heavy
b. Convenient
c. Smooth
d. Automatic
33. Fill in the blank with the correct verb
Neither of these houses _____ new
a. Is
b. Will be
c. Are
d. Have been
34. Fill in the blank with the collective noun.
A _____ of ants.
a. Group
b. Litter
c. School
d. Colony
35. Select option correctly showing the type of adverb underlined in given sentence.
Ali eats his dinner very often here
a. Adverb of manner
b. Adverb of time
c. Adverb of frequency
d. Adverb of degree
36. Select the correct option to answer the question.
Which of the following is a synonym of 'robust'?
a. Rough
b. Rowdy
c. Sturdy
d. Rustic
37. Choose the correct question tag.
You are collecting stamps, _____?
a. Are you
b. Aren't you
c. You
d. Don't you
38. Select the correct option to fill the blank
_____ broken and so _____ not useful any more.
a. Its, it's
b. It's, it's
c. Its, its
d. It's, its
39. Choose the word with the correct spelling.
a. DISEAGE
b. DICEASE
c. DESEASE
d. DECEASE
40. It is _____ ewe.
a. a
b. an
c. a and an
d. no article

WEST BENGAL SHINE TEACHER'S OF EDUCATION TALENT SEARCH EXAM, 2023
CLASS - III

41. Complete the series.
CMM, EOO, GQQ, _____, KUU
a. GRR b. GSS c. ISS d. **ITT**
42. Complete the series.
AZBY : CXDW :: EVFU : ?
a. **GTHS** b. GHIS c. GSTH d. TGSB
43. Arrange the words given below in a meaningful sequence
1. Word 2. Paragraph 3. Sentence
4. Letters 5. Phrase
a. 4, 1, 5, 2, 3 b. 4, 1, 3, 5, 2
c. 4, 2, 5, 1, 3 d. **4, 1, 5, 3, 2**
44. Complete the Series : 1, 1, 4, 8, 9, 27, 16, ?
a. 32 b. **64**
c. 81 d. 256
45. Arrange the words given below in a meaningful sequence
1. Key 2. Door 3. Lock
4. Room 5. Switch on
a. 5, 1, 2, 4, 3 b. 4, 2, 1, 5, 3
c. **1, 3, 2, 4, 5** d. 1, 2, 3, 5, 4
46. A man walks 5 km toward south and then turns to the right. After walking 3 km he turns to the left and walks 5 km. Now in which direction is he from the starting place?
a. West b. South
c. North-East d. **South-West**
47. Y is in the East of X which is in the North of Z. If P is in the South of Z, then in which direction of Y, is P?
a. North b. South
c. South-East d. **None of these**
48. Complete the series : 12, 14, 18, 26, 42, ?
a. 67 b. 72
c. **74** d. 66
49. Complete the series : 8, 3, 5, 8, 13, 21, ?
a. 32 b. **34**
c. 36 d. 30
50. If "III" is 5, "IV" is 4. Then "V" is ?
a. 2 b. 3
c. **4** d. 5
51. Find out the odd one
a. Cow b. Cat c. Dog d. **Man**
52. How many Square are there in Chess board?
a. 8 b. 16 c. 64 d. **204**
53. A dice is thrown four times and its four different positions are shown below. Find the number on the face opposite the face showing 2
- 
- (i) (ii) (iii) (iv)
- a. 3 b. 4 c. **5** d. 6
54. Two positions of a parallelepiped are shown below. When the number 3 will be on the top side, then which number will be at the bottom?
- 
- (i) (ii)
- a. 1 b. 4 c. **5** d. 6
55. Choose a figure which would most closely resemble the unfolded form of Figure (Z).
- 
- X Y Z
- 
- (1) (2) (3) (4)
- a. 1 b. 2
c. **3** d. 4
56. Choose a figure which would most closely resemble the unfolded form of Figure (Z)
- 
- P X Y Z
- 
- (1) (2) (3) (4)
- a. 1 b. **2** c. 3 d. 4
57. If MONDAY is 617, TUESDAY is 729, Then FRIDAY is ____?
a. **6511** b. 4711 c. 8412 d. 5712
58. Find the number of triangles in the given figure.
- 
- a. 16 b. **18** c. 14 d. 15
59. Fill in the blank.
- | | | |
|----|---|---|
| 19 | 3 | 8 |
| 28 | 5 | 6 |
| ? | 2 | 8 |
- a. 12 b. **14** c. 16 d. 13

WEST BENGAL SHINE TEACHER'S OF EDUCATION TALENT SEARCH EXAM, 2023
CLASS - III

60. Find the number of triangles in the given figure



- a. 10 b. 12 **c. 14** d. 16

41. সিরিজটি সম্পূর্ণ করুন।

CMM, EOO, GQQ, _____, KUU

- a. GRR b. GSS c. ISS **d. ITT**

42. সিরিজটি সম্পূর্ণ করুন।

AZBY : CXDW :: EVFU : ?

- a. GTHS b. GHTS **c. GSTH** d. TGSH

43. নিচের শব্দগুলোকে একটি অর্থপূর্ণ ক্রমানুসারে সাজান।

1. Word 2. Paragraph 3. Sentence
4. Letters 5. Phrase

- a. 4, 1, 5, 2, 3 b. 4, 1, 3, 5, 2
c. 4, 2, 5, 1, 3 **d. 4, 1, 5, 3, 2**

44. সিরিজটি সম্পূর্ণ করুন। 1, 1, 4, 8, 9, 27, 16, ?

- a. 32 **b. 64**
c. 81 d. 256

45. নিচের শব্দগুলো একটি অর্থপূর্ণ ক্রমানুসারে সাজান।

1. Key 2. Door 3. Lock
4. Room 5. Switch on

- a. 5, 1, 2, 4, 3 b. 4, 2, 1, 5, 3
c. 1, 3, 2, 4, 5 d. 1, 2, 3, 5, 4

46. একজন লোক দক্ষিণ দিকে ৫কিমি হাঁটাই করে এবং তারপর ডান দিকে মোড় নেয়। ৩ কিমি হাঁটার পর সে বাম দিকে ঘুরে ৫ কিমি হাঁটে। এখন তিনি শুরুর স্থান থেকে কোন দিকে?

- a. পশ্চিম b. দক্ষিণ
c. উত্তর-পূর্ব **d. দক্ষিণ-পশ্চিম**

47. Y হল X -এর পূর্বে যা Z উত্তরে। P যদি Z-এর দক্ষিণ, তাহলে Y-এর কোন দিকে P?

- a. উত্তর b. দক্ষিণ
c. দক্ষিণ-পূর্ব **d. কিছুই না**

48. সিরিজটি সম্পূর্ণ করুন। 12, 14, 18, 26, 42, ?

- a. 67 b. 72
c. 74 d. 66

49. সিরিজটি সম্পূর্ণ করুন। 8.3, 5, 8, 13, 21, ?

- a. 32 **b. 34** c. 36 d. 30

50. যদি "III" হয় 5, "IV" হয় 4. তাহলে "V" হয় ?

- a. 2 b. 3
c. 4 d. 5

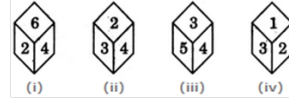
51. আলাদা শব্দটি খুঁজে বের করুন।

- a. Cow b. Cat c. Dog **d. Man**

52. দাবার বোর্ডে কয়টি স্কোয়ার আছে?

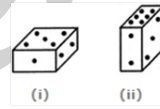
- a. 8 b. 16 c. 64 **d. 204**

53. একটি dice চারবার নিক্ষেপ করা হয় এবং এর চারটি ভিন্ন অবস্থান নিচে দেখানো হয়েছে। 2 দেখানো মুখের বিপরীত মুখের সংখ্যাটি খুঁজুন।



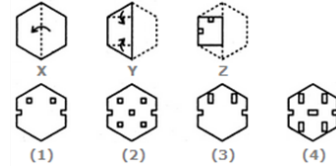
- a. 3 b. 4 **c. 5** d. 6

54. একটি সমান্তরাল Piped -এর দুটি অবস্থান নিচে দেখানো হয়েছে। যখন 3 নম্বরটি উপরের দিকে থাকবে, তখন কোন সংখ্যাটি নিচে থাকবে?



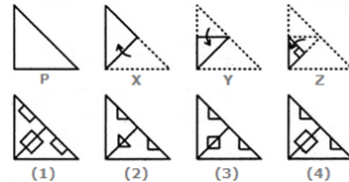
- a. 1 b. 4 **c. 5** d. 6

55. এমন একটি চিত্র চয়ন করুন যা চিত্র (Z) এর উন্মোচিত ফর্মের সাথে সবচেয়ে ঘনিষ্ঠভাবে সাদৃশ্যপূর্ণ।



- a. 1 b. 2
c. 3 d. 4

56. এমন একটি চিত্র চয়ন করুন যা চিত্র (Z) এর উন্মোচিত রূপের সাথে সবচেয়ে ঘনিষ্ঠভাবে সাদৃশ্যপূর্ণ হবে



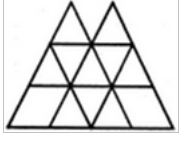
- a. 1 b. 2
c. 3 d. 4

57. যদি MONDAY হয় 617, TUESDAY হয় 729, তাহলে FRIDAY হয় _____?

- a. 6511 b. 4711 c. 8412 d. 5712s

WEST BENGAL SHINE TEACHER'S OF EDUCATION TALENT SEARCH EXAM, 2023
CLASS - III

58. প্রদত্ত চিত্রে ত্রিভুজের সংখ্যা নির্ণয় কর।



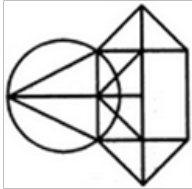
- a. 16 **b. 18** c. 14 d. 15

59. শূন্যস্থানটি পূরণ করুন।

19	3	8
28	5	6
?	2	8

- a. 12 **b. 14** c. 16 d. 13

60. প্রদত্ত চিত্রে ত্রিভুজের সংখ্যা নির্ণয় কর।



- a. 10 b. 12 **c. 14** d. 16

61. Riya left from school at 1:30p.m. School bus took 45 minutes to reach her home. At what time she reached home?

- a. 2p.m. b. 2:15a.m.
c. 2:25p.m. **d. 2:15p.m.**

62. Which one of these is smallest

- a. 5 b. 0 c. -5 d. 1

63. $10 \div 10 = 100$

- a. True **b. False**
c. Can't say d. None of these

64. $250 \text{ grams} \times 7 = ?$

- a. 1 kg 500 grams b. 1 kg 250 grams
c. 2 kg 250 grams **d. 1 kg 750 grams**

65. $-510 + ? = 700$

- a. 1180 b. -180
c. -190 **d. 1210**

66. $140 + __? __ + 600 = 512 + 498 + 117$

- a. 287 **b. 387**
c. 887 d. 187

67. $9999 = 10000 - ?$

- a. -1 b. 10 **c. 1** d. -10

68. $0 \div 100 = ?$

- a. 1 b. 100
c. 0 d. None of these

69. $12 + 4 = ?$

- a. 4×4 b. 8×3
c. 4×6 d. 6×6

70. 444 meter 44 cm = ? cm

- a. 444044 cm b. 4444 cm
c. 44444 cm d. 444440 cm

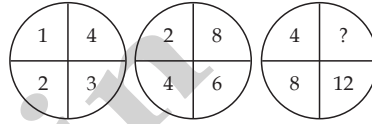
71. $100 \div 10 \times 4 \times 6 + 10 = ?$

- a. 240 **b. 250**
c. 260 d. 270

72. 40,000 men, 36,000 women and 23,600 children = ? (What is the total population)

- a. 99,900 **b. 99,600**
c. 99,000 d. 90,000

73.



- a. 18 b. 2 **c. 16** d. 14

74. $100 + 25 \times __? __ - 10 = 0$

- a. 0 b. 215
c. 1 d. -1

75. 4 dozen = ?

- a. 12 **b. 48**
c. 44 d. 400

76. 1600 meter = ? km

- a. 16 b. 0.16
c. 160 **d. 1.6**

77. The weights of the five balls are 125 grams. What is the average weight?

- a. 25 gram b. 5 gram
c. 50 gram **d. 20 gram**


78. $1000 + 100 + __? __ + 10 = 1111$

- a. 0 b. 1
c. 10 d. 100

79. $25 \times __? __ = 625$

- a. 625 b. 0
c. 25 d. 5

80.



What is the correct time?

- a. 6:30 b. 6:20
c. 4:30 d. 4:20

